

TEMA 7: INTRODUCCIÓN A LA PROGRAMACIÓN LINEAL

INTRODUCCIÓN. PROBLEMA A RESOLVER

Ejemplo Modelo: una empresa Química produce dos compuestos A y B. El compuesto A se vende a 3 euros/kg mientras que el compuesto B se vende a 2 euros/kg. Por razones logísticas, la suma de la producción de ambos compuestos no puede ser superior a 3000kg al día. Además, debido al alto poder contaminante del proceso de síntesis del compuesto A, la legislación no permite que se produzcan más de 2000kg al día del mismo. Encontrar la cantidad diaria a producir de cada uno de los productos para maximizar el beneficio económico.

Solución:

$x \equiv$ cantidad diaria de compuesto A
 $y \equiv$ " " " " B.

Beneficio: $3x + 2y \rightarrow$ Maximizar

Restricciones:

$$x + y \leq 3000$$

$$x \leq 2000$$

$$x \geq 0$$

$$y \geq 0$$

Modelo Matemático:

$$\left\{ \begin{array}{l} \text{Maximizar} \\ \text{sujeto a} \end{array} \right. \quad \begin{array}{l} f(x,y) = 3x + 2y \\ x + y \leq 3000 \\ 0 \leq x \leq 2000 \\ y \geq 0 \end{array} \quad \left. \vphantom{\begin{array}{l} \text{Maximizar} \\ \text{sujeto a} \end{array}} \right\} \text{restricciones.}$$

(x,y) \equiv variable de optimización. Incógnita del problema

$f(x,y)$ \equiv función objetivo (o coste)

Este es un ejemplo típico de problema de programación lineal.

De forma más general un problema de programación lineal se formula como:

$$\text{(PPL)} \left\{ \begin{array}{l} \text{Minimizar} \\ \text{sujeto a} \end{array} \right. \quad \begin{array}{l} f(x) = b \cdot x \\ Ax \leq c \\ A_{eq} x = c_{eq} \end{array}$$

donde

$x = (x_1, x_2, \dots, x_n)$ variable de optimización

$b = (b_1, b_2, \dots, b_n)$ vector de costes

$f = f(x_1, \dots, x_n)$ función objetivo

$Ax \leq c$ restricciones de desigualdad

$A_{eq} x = c_{eq}$ " " igualdad

A, A_{eq} matrices, c, c_{eq} vectores conocidos.

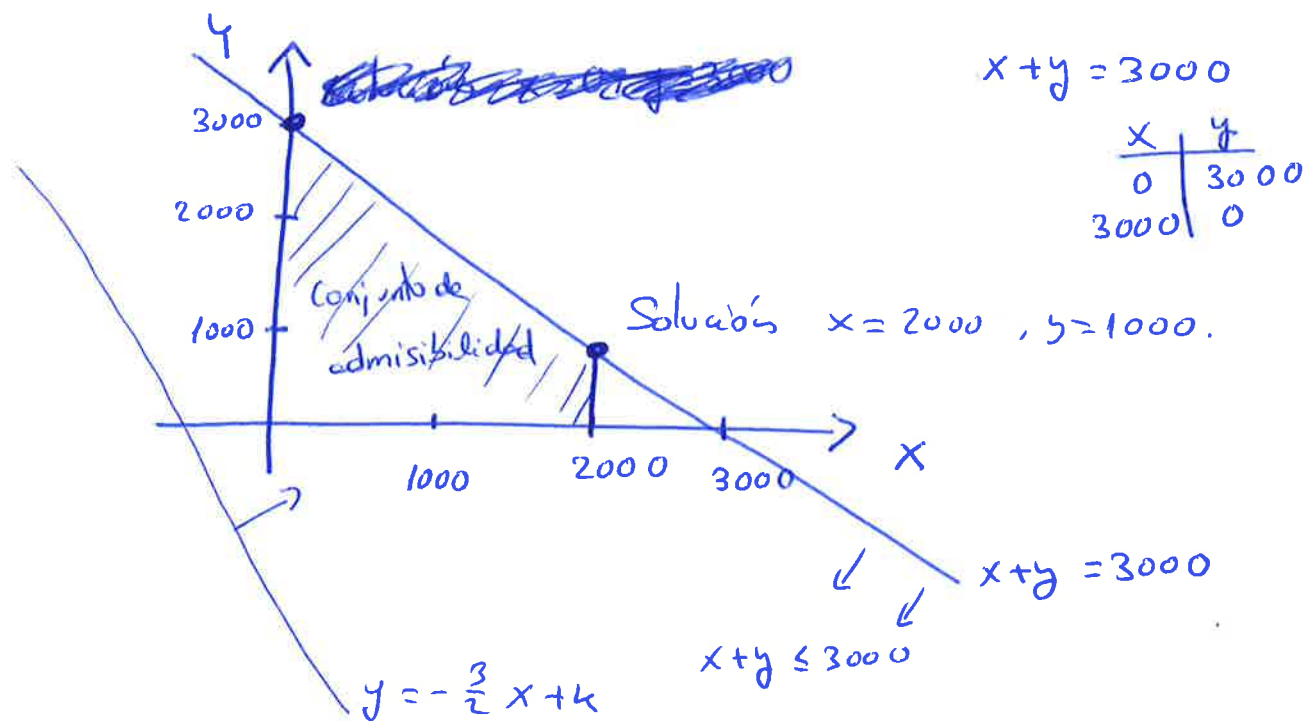
Origen histórico: Alrededor de 1946, G. Dantzing inventa el Método Simplex, que es quizás el método más usado para resolver problemas de programación lineal de tamaño medio-grande.

La programación lineal se aplica en la optimización de procesos químicos tales como la planificación de actividades en una planta química, entre otras.

Para más aplicaciones, véase: E.T. Himmelblau, Optimization of chemical processes. McGraw-Hill 1988.

Resolución geométrica del problema modelo anterior

Maximizar $f(x,y) = 3x + 2y = k \rightarrow 2y = -3x + k$
 sujeto a $x + y \leq 3000$ $y = -\frac{3}{2}x + k$
 $0 \leq x \leq 2000$
 $y \geq 0$



• Se llama conjunto de admisibilidad al conjunto de puntos $x = (x_1, \dots, x_n)$ que cumplen las restricciones del problema.

Propiedad: En programación lineal, el óptimo, si existe, se alcanza en un vértice del conjunto de admisibilidad.

Esta propiedad proporciona el siguiente método algebraico de resolución:

1) Se calculan los vértices del conjunto de admisibilidad

2) Se evalúa la función objetivo en dichos vértices.

El vértice que da el mayor o menor coste, dependiendo de si el problema es de maximización o minimización, proporciona el óptimo.

En el ejemplo anterior:

$$\text{Vértices} \quad f(x, y) = 3x + 2y$$

$$(0, 0) \rightarrow f(0, 0) = 0$$

$$(2000, 0) \rightarrow f(2000, 0) = 6000$$

$$(2000, 1000) \rightarrow f(2000, 1000) = 8000 \leftarrow \text{óptimo.}$$

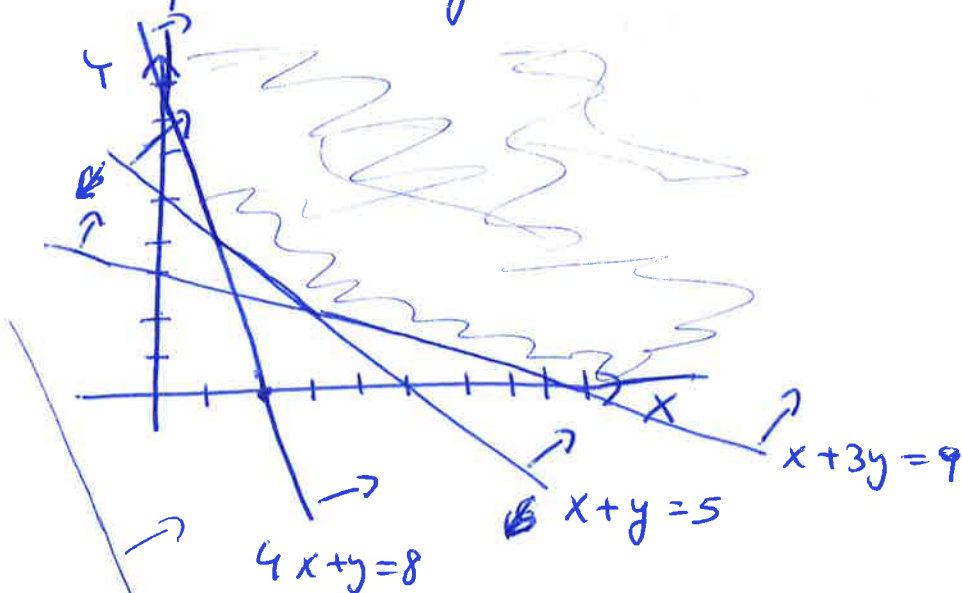
$$(0, 3000) \rightarrow f(0, 3000) = 6000.$$

Veamos otros ejemplos de la hoja de ejercicios.

② ¿Tiene solución el siguiente problema? ¿Por qué?

$$\left\{ \begin{array}{l} \text{Maximizar } f(x,y) = 2x + 3y \\ \text{sujeto a} \\ x + y \geq 5 \\ x + 3y \geq 9 \\ 4x + y \geq 8 \\ x, y \geq 0 \end{array} \right.$$

Dibujamos el conjunto de admisibilidad



$$x + y = 5$$

$$\begin{array}{c|c} x & y \\ \hline 0 & 5 \\ 5 & 0 \end{array}$$

$$x + 3y = 9$$

$$\begin{array}{c|c} x & y \\ \hline 9 & 0 \\ 0 & 3 \end{array}$$

$$4x + y = 8$$

$$\begin{array}{c|c} x & y \\ \hline 2 & 0 \\ 0 & 8 \end{array}$$

rectas $2x + 3y = k$; $y = -\frac{2}{3}x + \frac{k}{3}$

El conjunto de admisibilidad es no acotado. Gráficamente se ve que el problema NO tiene solución.

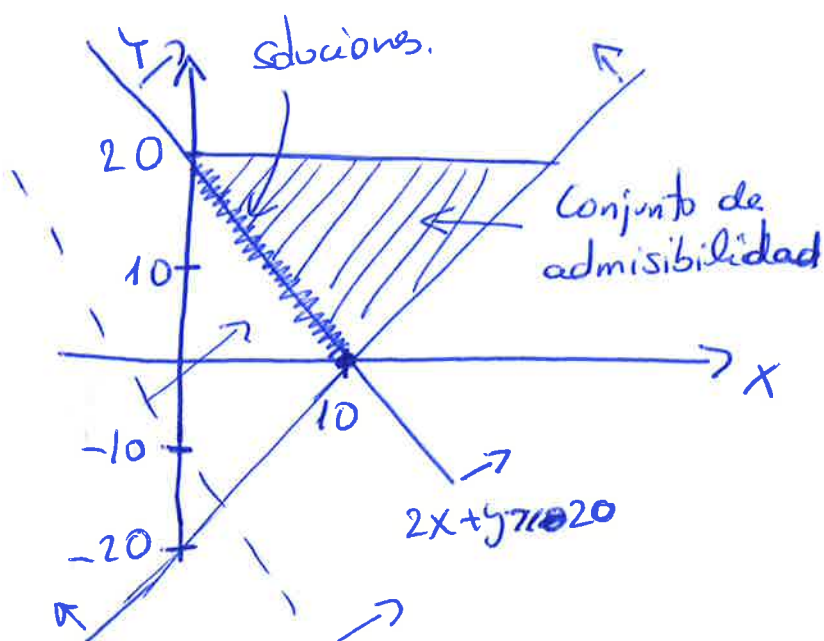
③ ¿Tiene solución el siguiente problema?
 En caso afirmativo, ¿cuántas tiene?

Minimizar $f(x, y) = 2x + y$
 sujeto a

$$2x + y \geq 20$$

$$2x - y \leq 20$$

$$0 \leq y \leq 20$$



$$2x + y = 20$$

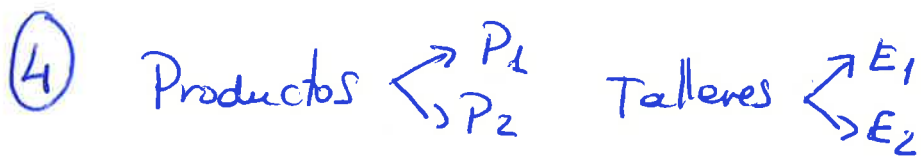
x	y
10	0
0	20

$$2x - y = 20$$

x	y
10	0
0	-20

rectas $2x + y = k \rightarrow y = -2x + k$

Como estas rectas son paralelas a una de las aristas del conjunto de admisibilidad, el problema tiene infinitas soluciones.



Variable de optimización:

$x_1 =$ cantidad de P_1 producida en E_1 (al día)

$x_2 =$ " " P_2 " " " "

$x_3 =$ " " P_1 " " E_2 " "

$x_4 =$ " " P_2 " " " " " "

Función objetivo: $f(x_1, x_2, x_3, x_4) = 200(x_1 + x_3) + 400(x_2 + x_4)$

Restricciones \rightarrow Maximizar

$$1 - 40 \quad x - x_1 \quad / x = \frac{x_1}{40} \quad \rightarrow \quad \frac{x_1}{40} + \frac{x_2}{60} \leq 1$$

$$\frac{x_3}{50} + \frac{x_4}{50} \leq 1$$

Maximizar $f(x_1, x_2, x_3, x_4) = 200(x_1 + x_3) + 400(x_2 + x_4)$
 sujeto a

$$\frac{x_1}{40} + \frac{x_2}{60} \leq 1$$

$$\frac{x_3}{50} + \frac{x_4}{50} \leq 1$$

$$x_1, x_2, x_3, x_4 \geq 0$$

x_j enteros \rightarrow Problema de programación lineal entera.

6

Mina A { 1 tonelada de máxima calidad máxima
2 " " " intermedia
6 " " " baja
Coste \rightarrow 1000 euros

Mina B { 2 toneladas de calidad máxima
5 " " " media
6 " " " baja
Coste \rightarrow 1400 euros

pedido: 90 ton. de calidad máxima + 120 ton. media + 180 baja

x_1 = no de días de trabajo en mina A

x_2 = " " " " " " " " B

~~Costes:~~

~~función objetivo: 1000~~

función objetivo: $1000x_1 + 1400x_2 \rightarrow$ Minimizar

Restricciones:

$$1 \cdot x_1 + 2 \cdot x_2 \geq 90$$

$$2 \cdot x_1 + 5 \cdot x_2 \geq 120$$

$$6 \cdot x_1 + 6 \cdot x_2 \geq 180$$

$$x_1, x_2 \geq 0.$$

Minimizar
sujeto a

$$f(x_1, x_2) = 1000x_1 + 1400x_2$$